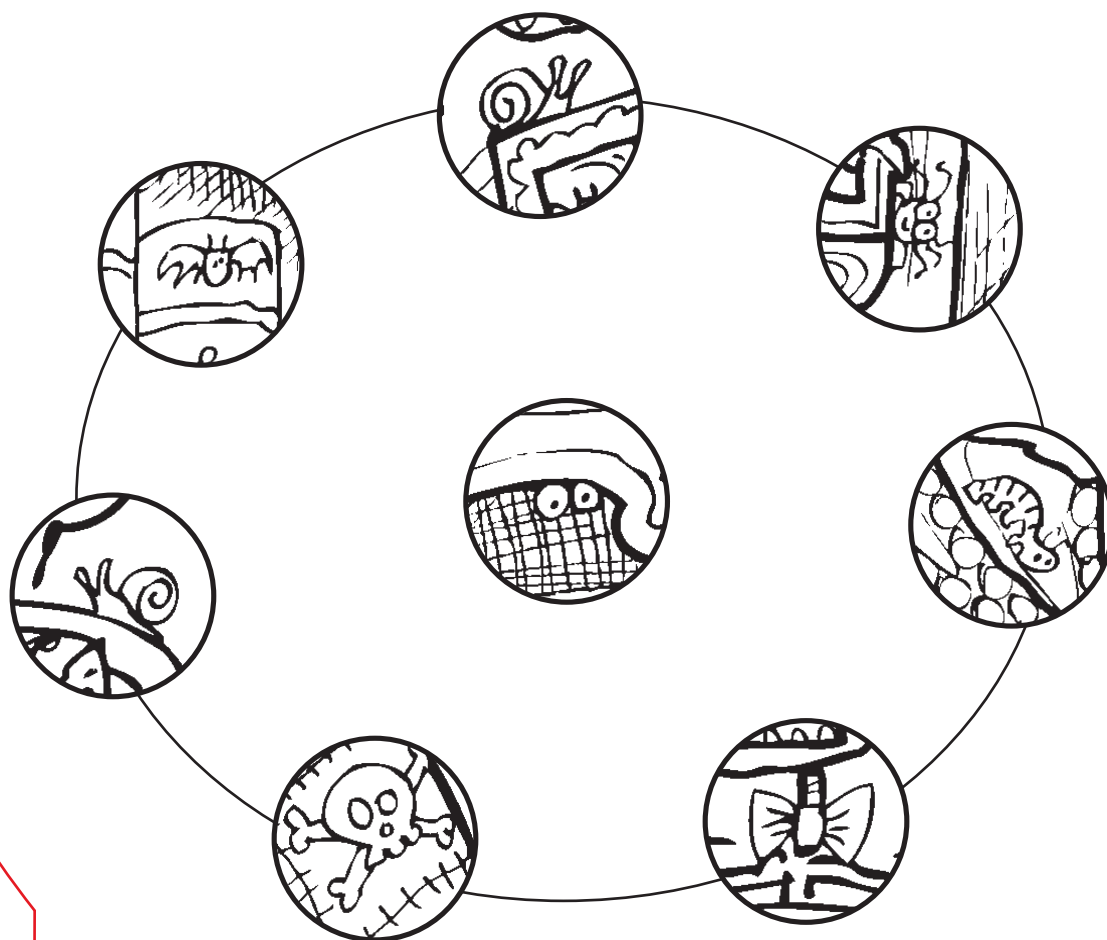


L'ORA DEL TÈ

Guarda attentamente il disegno nella pagina accanto
e trova gli oggetti nel cerchio.


Trova questi oggetti...






MESCOLA

Se A=1, B=2, C=3 e così via, trova quali ingredienti sta usando la strega per fare la sua pozione.






ARITMETICA MENTALE

Quale di queste teste appartiene
al Cavaliere senza testa? Completa
le operazioni per scoprirlo.

$$25 + 25 =$$



a



$$42 + 12 = \square$$

b



$$36 + 24 = \square$$

c



$$88 - 28 = \square$$

d



$$73 - 23 = \square$$

e



$$6 \times 10 = \square$$

BARA PAUROSA

Disegna la creatura che immagini
che stia dormendo in questa bara.

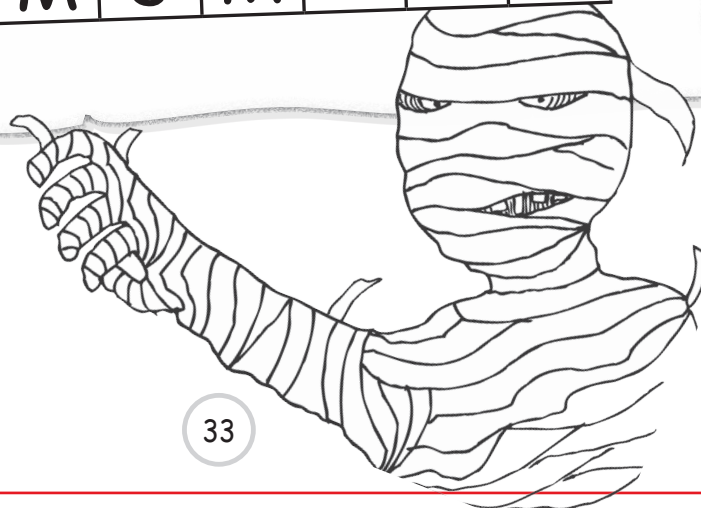


VOGLIO LA MIA MUMMIA

Nel riquadro la parola MUMMIA compare solo una volta.


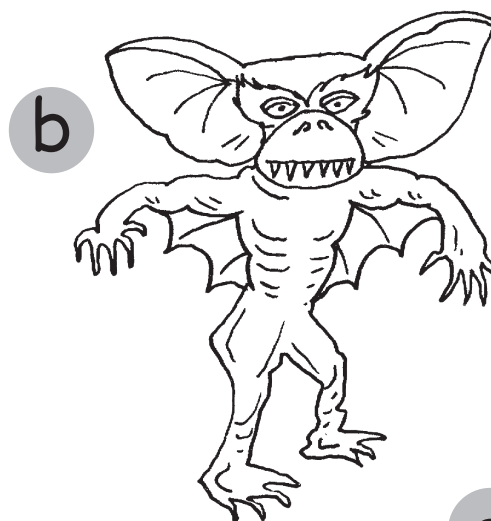
Riesci a trovarla?

M	M	M	I	M	U	M	M
U	U	A	M	U	M	M	U
M	I	M	U	M	M	I	A
A	M	I	M	M	U	U	M
M	U	M	U	A	M	I	U
I	M	U	M	I	M	U	M
U	M	M	U	M	U	M	A



GREMLINS!

Riesci a trovare quali di questi
orribili gremlins sono identici?




e




f



g



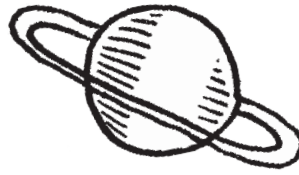
h



iNVASORI DELLO SPAZIO

Questo mini riquadro compare solo una volta
nel riquadro più grande. Riesci a trovarlo?

@	b	c	%
e	@	b	c
c	%	e	@
b	@	c	%



@ b % @ c % e b c % e c
e b @ @ c % e b @ @ c %
e b b c % e @ b @ b c %
e @ c % e b c % e b @ c %
% e b @ % c % e c % e c
% e @ b @ b c % @ c c %
e @ b @ b c % b % e b @
b c % e @ b c % e @ c %
e b b c % e @ b @ c %
c % e b @ c % e @ b c %
e @ b @ c % e @ b c %
b @ c % e b e @ b c % e

